



**EVALUARE NAȚIONALĂ
LA FINALUL CLASEI a IV-a
2024**

**MATEMATICĂ
Test 2**

Județul/sectorul

Localitatea

Școala


Numele și prenumele elevei/elevului

.....

Clasa a IV-a

Băiat

Fată



Câinele (numit și câine domestic), primul animal domesticit, se numără printre cele mai populare animale de companie, deoarece este o ființă simpatică, drăgălașă și prietenoasă.

Rezolvă testul și vei afla informații despre acest animal!

I. NUMERE



1

La un concurs național, organizat la București, au participat 2138 de câini, de diferite rase. Cum se scrie numărul natural 2138 cu litere?

Încercuiește litera corespunzătoare acestui număr scris corect cu litere.



- A. două mii osută treizeci și opt
- B. două mii o sută trei zeci și opt
- C. două mii o sută treizeci și opt
- D. două mii osută trei zeci și opt

Nu se completează de către elev.

COD

1.



2

Prima ființă care a zburat în spațiu a fost cățeaua Laika, în anul MCMLVII. Cum se scrie acest număr cu cifre arabe?

Încercuiește litera corespunzătoare acestui număr scris cu cifre arabe.



- A. 1947
- B. 1956
- C. 1957
- D. 1967

Nu se completează de către elev.

COD

2.

**3**

Scheletul câinelui este alcătuit din cel puțin 270 de oase.
Care sunt **predecesorul** și **succesorul** numărului natural 270 ?

Încercuiește litera corespunzătoare răspunsului corect.



- A. 269 și 270
- B. 2699 și 2701
- C. 270 și 271
- D. 269 și 271

Nu se completează de către elev.

COD

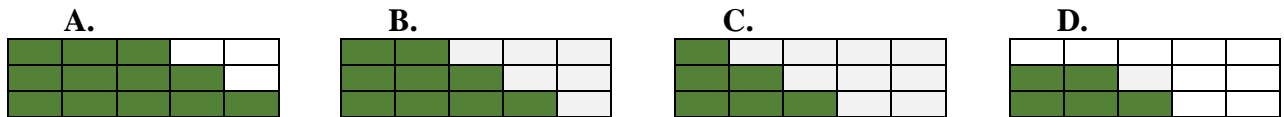
3.

**4**

O **treime** din numărul total al câinilor care au participat la un concurs internațional a fost din rasa Caniche.

Care este reprezentarea grafică a acestei părți din întreg?

Încercuiește litera corespunzătoare variantei corecte de răspuns.



Nu se completează de către elev.

COD

4.

**5**

Câinii au aproximativ 1700 de papile gustative.
Rotunjește, la ordinul **milor**, numărul natural 1700 .

Încercuiește litera corespunzătoare variantei corecte de răspuns.



- A. 1000
- B. 1600
- C. 1800
- D. 2000

Nu se completează de către elev.

COD

5.

II. FIGURI GEOMETRICE ȘI MĂSURĂTORI



11

Cu ce **figură geometrică** seamănă forma acestui tablou?



Încercuiește litera corespunzătoare figurii geometrice respective.

A. pătrat

B. dreptunghi

C. cerc

D. triunghi

Nu se completează de către elev.

COD

11.

12

Cantitatea de mâncare uscată consumată de un câine la o masă poate fi măsurată în

Încercuiește litera corespunzătoare unității de măsură cea mai potrivită pentru a măsura această cantitate.

A. litri

B. grame

C. tone

D. chintale

Nu se completează de către elev.

COD

12.

13

Celebrul film de desene animate *101 dalmațieni* a rulat la un cinematograf începând de joi, 9 mai 2024, până marți, 14 mai 2024 inclusiv.



În câte **zile** a rulat filmul?

Încercuiește litera corespunzătoare răspunsului corect.

A. 7 zile

B. 6 zile

C. 5 zile

D. 4 zile

Nu se completează de către elev.

COD

13.

**14**

Cheltuielile săptămânale ale unei familii pentru întreținerea câinelui sunt de 19000 de bani. Câți lei cheltuiește acea familie pentru întreținerea câinelui în fiecare săptămână?

Încercuiește litera corespunzătoare răspunsului corect.

- A. 19 lei
- B. 190 lei
- C. 1900 lei
- D. 19000 lei

Nu se completează de către elev.

COD


14.

**15**

O expoziție de câini a fost amenajată pe un teren care are forma unui dreptunghi cu lățimea de 300 de metri și lungimea cu 6 metri mai mare. Calculează **perimetrul** terenului respectiv.

Rezolvă problema și scrie răspunsul pe spațiul punctat.

Redactează rezolvarea problemei aici.



.....

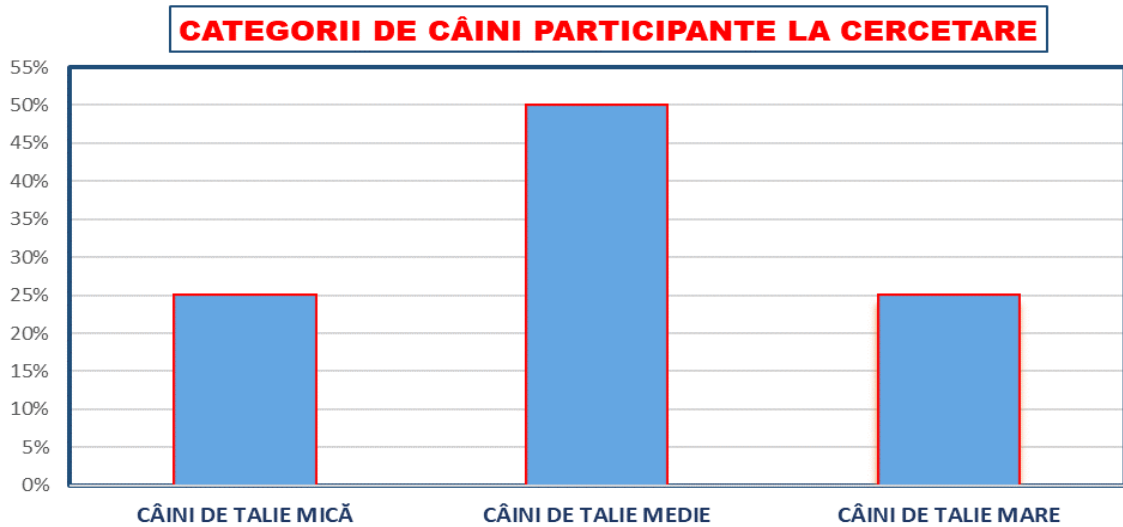
Nu se completează de către elev.

COE

15.

Într-un proiect de cercetare a comportamentului câinilor au fost incluse trei categorii de câini, reprezentate grafic mai jos.

Care **categorii de câini** au fost incluse în proiect în procente egale și care sunt acele **procente**?



Scrive, pe spațiul punctat, categoriile de câini incluse în proiect în procente egale și care este procentul pentru fiecare dintre aceste categorii.



.....

.....

Nu se completează de către elev.
COD

20.	
------------	--

FELICITĂRI, AI AJUNS LA SFÂRȘITUL TESTULUI!

MULȚUMIM PENTRU PARTICIPARE!

**După ce ai finalizat testul,
dacă îți rămâne timp,
poți colora acești câini!**

