



**EVALUAREA COMPETENȚELOR FUNDAMENTALE
LA FINALUL CLASEI a II-a
2024**

Test 2

MATEMATICĂ ȘI ȘTIINȚE ALE NATURII

Județul / sectorul.....

Localitatea.....

Școala.....

Numele și prenumele elevei / elevului.....

.....

Clasa a II-a.....

Băiat

Fată

E ŽIVUTRE KAΘAR O NORDUTNO PÒLO THAJ KAΘAR O SUDUTNO PÒLO

E siklòvne andar i II-to klàsa kamle te vakàren palal e živutre kaθar o Sudutno thaj o Nordutno Pòlo, i rajni siklārni phendàs lenqe te kiden maj but informàcie thaj pòze palal kadala živutre.

I Alina, o Florin, i Mara thaj o Štefan astarde te kiden maj but pòze e živutrença kaθar o Sudutno thaj o Nordutno Pòlo.



And-o telutno tabèlo si xramosardo e pozenqo gin savo kidàs len sarkon čhavo/ čhaj.

i Alina	o Florin	i Mara	o Štefan
136 fotografie	127 fotografie	85 fotografie	98 fotografie

1. I Alina i komparàcia maškar e pozenqo gin kaj kidàs len voj thaj e pozenqo gin kaj kidàs len o Florin. **Ker vi tu lenqi komparàcia!**

Xramosar, and-i telutni kasèta, jekh andar e sèmnurà <, >, = kaj i relàcia te avel čáci.

136 127


Nu se completează de către elev
COD

1.

2. O Štefan kerdàs i diferença maškar o maj baro thaj o maj tikno gin e pozenqo kaj kidàs len e štar čhave.

Ginav vi tu!

Xramosar, p-o dino than, e problemaqo rezolvisaripen.




Nu se completează de către elev
COD

2.

3. Vaš jekh khelipen, i Mara lačhardăs varesode pòze pinguinença, sar and-i telutni imàgina. Sode pòze lačhardăs i Mara and-o totàlo?

Arakh o rezultàto andar palemkerdo kidăripen e sakodoja ginesqo.

Xramosar, p-o dino than, e problemaqo rezolvisaripen.



Nu se completează de către elev
COD

3.

4. O Florin phendăs pesqe kolegurenqe ke o pinguino si jekh ćirikli kaj živel k-o Sudutno Pòlo thaj savi šaj te xal, and-jekh dės, 6 kg mače.

Sode kg mače šaj te xal jekh pinguino and-e 4 dësà?

Trujar i trebutni grafema vaš o lačho amboldipen.


- a) 2 kg
- b) 6 kg
- c) 10 kg
- d) 24 kg

Nu se completează de către elev
COD

4.

5. I Alina andăs pesqe kolegurenqe 25 fotografie e zivutrença kaθar o Nordutno Pòlo thaj 5 var maj cira pòze e zivutrença kaθar o Sudutno Pòlo. Sode pòze e zivutrença kaθar o Sudutno Pòlo andăs i Alina?

**Ginav andar palemkerdo tiknàripen e sakodoja ginesqo.
Xramosar, p-o dino than, e problemaqo rezolvisaripen.**



Nu se completează de către elev
COD

5.

6. O Florin sikavdăs pesqe kolegurenqe jekh dikhipen/ plākato p-o savo si informàcie palal e pinguinură. **Save geometrikane figuraça miazol o plakato savo kerdăs les o Florin? Trujar i trebutni grafema vaś o laçho amboldipen.**



Cea mai mare specie de pinguin este pinguinul imperial: în medie, adulții au aproximativ 1,1 m înălțime și cântăresc 35 kg.
Cea mai mică specie de pinguin este pinguinul mic albastru, care are aproximativ 33 cm înălțime și cântărește 1 kg.

- a) truj/ cërko
- b) dreptungio
- c) ștarigalo
- d) triànglo

Nu se completează de către elev
COD

6.

7. Kaj te khelel pes, i Mara lačhardăs e fotografie e kamle živutrenča kaθar o Nordutno Pòlo sar and-o telutno rèndo/ širo. Save fotografie aven and-o rèndo?
Trujar i trebutni grafèma vaš o lačo amboldipen.



Nu se completează de către elev
 COD

7.

8. O Ștefan alosardăs 24 fotografie pesqe kamle živutrenča kaθar o Sudutno Pòlo thaj dinăs po 3 pòze pesqe amalenqe. Sode čhave xudine/ astarde fotografie?
Trujar i trebutni grafèma vaš o lačo amboldipen.

- a) 3 čhave
- b) 8 čhave
- c) 21 čhave
- d) 27 čhave

Nu se completează de către elev
 COD

8.

9. I Mara sikavdās pesqe amalenqe i telutni fotografia, and-i savi čhudās 4 timbrurā e živutrenča kaθar o Nordutno Pòlo. And-i savi rig e fotografiaqi si o polāro šošoǰ?
Trujar i trebutni grafèma vaš o lačo amboldipen.


- a) tele and-i čáci rig
- b) opre and-i čáci rig
- c) tele and-i zervi/ stingo rig
- d) opre and-i zervi/ stingo rig



Nu se completează de către elev
 COD

9.

10. Sarkon čhavo lipisardās po jekh imàgina e kamle živutreča p-e kartonàsurā diferime formača. **Xramosar, p-o dino than, o anav e geometrikane figuraqo p-i savi si lipisardi i fotografia jekhe pinguinoča.**



O kartonàšo p-o savo si lipisardi i fotografia e pinguinoča si les i fòrma _____.

Nu se completează de către elev
 COD

10.

